

令和8年度

奈良県公立高等学校入学者一次選抜学力検査問題

# 社 会

注 意

- 1 指示があるまで開いてはいけません。
- 2 解答用紙には、受検番号を忘れないように書きなさい。
- 3 解答用紙の※印のところには、何も書いてはいけません。
- 4 答えは必ず解答用紙に書きなさい。

1 太郎さんは、「飛鳥・藤原の宮部」の世界文化遺産への推薦書がユネスコ事務局に提出されたことを知り、日本における世界文化遺産について興味をもった。次の表は、太郎さんが日本国内で登録されている世界文化遺産を構成する建造物に関してまとめたものの一である。各問いに答えよ。

法隆寺	仏教をあつく信仰したA聖徳太子により7世紀初めに建てられた。中門、金堂、五重塔、回廊は、現存する世界最古の木造建築である。
東大寺	仏教の力で、伝染病や災害の不安から国家を守ろうとしたB聖武天皇により建てられた。
平等院	末法思想が広まり、貴族たちがC浄土信仰を深める中、極楽浄土の姿を表している鳳凰堂が藤原頼通により建てられた。
慈照寺	D足利義政により京都の東山に建てられた銀閣は、1層が書院造、2層が禅宗様の仏堂である。
日光東照宮	朝廷から征夷大将軍に任命され、江戸幕府を開いたE徳川家康がまつられている。

- (1) 資料Iは、表中の下線部Aが604年に制定した、役人の心構えなどを示した法の一部である。この法を何というか。その名称を書け。
- (2) 表中の下線部Bが治めたころに栄えた天平文化に関して述べた文として最も適切なものを、次のア～エから1つ選び、その記号を書け。

[資料I]

- ・一に曰く、和をもって貴しとなし、さからうことなきを宗とせよ。
- ・二に曰く、あつく三宝を敬え。三宝とは仏法僧なり。
- ・三に曰く、詔をうけたまわりては必ずつつしめ。

- ア 日本の風景や人物を題材にした大和絵が、えがかれるようになった。
- イ 全国の国ごとに、自然、産物、伝承などを記した風土記がまとめられた。
- ウ 空海は、高野山に金剛峯寺を建て、真言宗を広めた。
- エ 寝殿を中心にいくつもの建物が廊下で結ばれ、広い庭や池が備えられる邸宅がつけられた。
- (3) 表中の下線部Cは10世紀半ばに盛んになった。10世紀から11世紀に起こった出来事について述べた次のア～エを、年代の古いものから順に並べたときに3番目になるものはどれか。その記号を書け。
- ア 藤原道長が摂政に就任した。    イ 白河上皇による院政が始まった。
- ウ 藤原純友の乱が起こった。    エ 後三条天皇の治世が始まった。
- (4) 表中の下線部Dに関係する出来事について述べた文として最も適切なものを、次のア～エから1つ選び、その記号を書け。
- ア 全国を支配しようとする戦国大名との対立により、室町幕府が滅亡した。
- イ 南朝と北朝に分かれて争っていた動乱が収まり、南北朝の統一が実現した。
- ウ 有力な守護大名が対立する応仁の乱が起こった。
- エ 二つの朝廷が争う中、京都に室町幕府が開かれた。

[資料II]

朱印状の写真

- (5) 太郎さんは、表中の下線部Eが貿易による利益を重視したことについて調べる中で、資料IIを見つけた。資料IIは、貿易を望む大名や豪商に海外渡航を許可する際に、江戸幕府が与えたものである。資料IIを持った船が行った貿易を何というか。その名称を書け。

2 次の表は、令子さんが、近代から現代において日本が外国と関わった出来事についてまとめたものの一である。各問いに答えよ。

年	出来事
1871	A岩倉使節団が派遣される。
1894	日清戦争が始まる。
1895	B三国干渉が起こる。
1914	C第一次世界大戦が始まる。
1937	D日中戦争が始まる。
1945	第二次世界大戦が終わる。
1952	E独立を回復する。

- (1) 資料Iは、表中の下線部Aに同行し、アメリカに留学した女子留学生たちの写真である。派遣当時、留学生の中で最年少であり、帰国後、女子英学塾をつくり、女子教育に力を注いだのは誰か。その人物名を書け。
- (2) 令子さんは、表中の下線部Bについて調べたことを次のメモにまとめた。(X)、(Y)に当てはまる言葉の組み合わせとして最も適切なものを、後のア～エから1つ選び、その記号を書け。

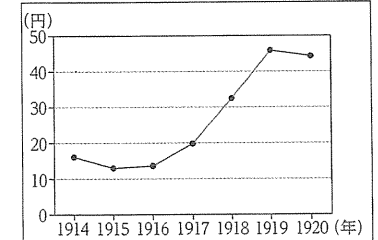
日清戦争後、(X)、ドイツ、フランスの三国が、日本に対して、下関条約で清から獲得した(Y)を清に返還するよう求めた。

- ア X ロシア Y 遼東半島    イ X ロシア Y 台湾
- ウ X イタリア Y 遼東半島    エ X イタリア Y 台湾

- (3) 令子さんは、表中の下線部Cが続く中、ロシアでは、社会主義者レーニンの指導の下、ロシア革命が起こったことを知った。右の□内は、令子さんがロシア革命に関わる出来事について調べたことをまとめたメモの一である。資料IIは、東京の米1石(約150kg)あたりの年平均取引価格を示したものである。(Z)に当てはまる言葉を、資料IIから読み取れることとその原因に触れながら、簡潔に書け。
- (4) 表中の下線部Dのきっかけとなった出来事について述べた文として最も適切なものを、次のア～エから1つ選び、その記号を書け。

社会主義の影響が世界に及ぶことを恐れたアメリカ、イギリス、フランス、日本などの政府は、1918年にシベリアに軍を送った。このシベリア出兵を見こした(Z)ことに対して、民衆が米屋などをおそう事件が全国に広がった。

[資料II]



(「日本近代史辞典」より作成)

- ア 北京の学生たちが、講和条約反対運動を起こした。
- イ 北京郊外の盧溝橋付近で日中両国軍の武力衝突が起こった。
- ウ 日本は、中国に二十一か条の要求を示し、大部分を認めさせた。
- エ 関東軍は、奉天郊外の柳条湖で南満州鉄道の線路を爆破した。
- (5) 令子さんは、表中の下線部Eについて調べたことを次のメモにまとめた。(P)に当てはまる文書名を書け。

サンフランシスコ平和条約が1952年4月28日に発効された。中華人民共和国とは正式な国交がないままの状態が続いたが、1972年に(P)が調印され、中華人民共和国との国交が正常化した。

3 夏美さんは、社会科の授業で、オセアニア州の学習のまとめとして、オーストラリアについてレポートを作成した。次の [ ] 内はその一部である。各問いに答えよ。

【オーストラリアについて】

- ・ A オーストラリア大陸とその沿岸部の島々で構成されている。
- ・ 豊富な B 鉱産資源は、重要な輸出品になっている。
- ・ 年代に応じて、C 貿易相手国が変化している。
- ・ D 多文化に配慮した様々な取り組みが進められている。
- ・ E 先住民の文化を尊重する動きが広がっている。
- ・ F イギリスの影響が公用語や町並みにみられる。
- ・ 太平洋周辺の国々と G 経済協力を進めている。

【略地図】

〈主な鉱産資源の分布〉

● ( X )  
■ 石炭  
▲ 天然ガス

(1) 資料 I 中のア～カは、六大陸それぞれの面積に占める熱帯、乾燥帯、温帯、亜寒帯、寒帯の割合を示したものである。下線部 A に当たるものを、資料 I 中のア～カから 1 つ選び、その記号を書け。

【資料 I】 (%)

	熱帯	乾燥帯	温帯	亜寒帯	寒帯
ア	5.2	14.4	13.5	43.4	23.5
イ	7.4	26.1	17.5	39.2	9.8
ウ	63.4	14.0	21.0	...	1.6
エ	38.6	46.7	14.7	...	...
オ	16.9	57.2	25.9	...	...
カ	...	...	...	...	100.0

(2) 夏美さんは、下線部 B について調べた。

① 資料 II は、2023年のオーストラリアにおける輸出額の上位 3 品目とその輸出額を示したものである。略地図と資料 II 中の ( X ) に当てはまる鉱産資源は何か。次のア～エから 1 つ選び、その記号を書け。

(注) …は、該当する資料がないことを示している。  
〔データブック オブ・ザ・ワールド2026〕より作成

【資料 II】

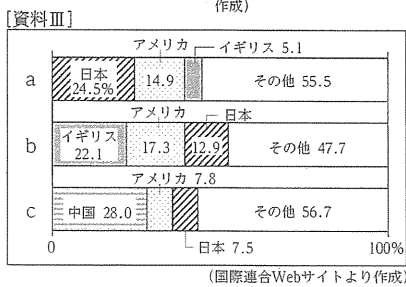
輸出額の上位 3 品目	輸出額 (百万ドル)
( X )	90,296
石炭	67,738
天然ガス	49,515

〔世界国勢図会2025/26〕より作成

ア 金 イ 鉄鉱石 ウ ボーキサイト エ 石油

② 下線部 B を採掘する方法の 1 つに、地表を直接削って掘り下げていく採掘方法がある。このような採掘方法を何というか。その名称を書け。

(3) 下線部 C に関して、資料 III 中の a～c は、1965年、1985年、2024年のいずれかの年における、オーストラリアの主な貿易相手国と輸出入総額に占める各国の割合を示したものである。資料 III 中の a～c を年代の古いものから順に正しく並べたものを、次のア～エから 1 つ選び、その記号を書け。




ア a→b→c イ a→c→b  
ウ b→a→c エ b→c→a

(4) 下線部 D に関して、オーストラリアの社会が多文化社会に変化したきっかけについて述べた文として最も適切なものを、次のア～エから 1 つ選び、その記号を書け。

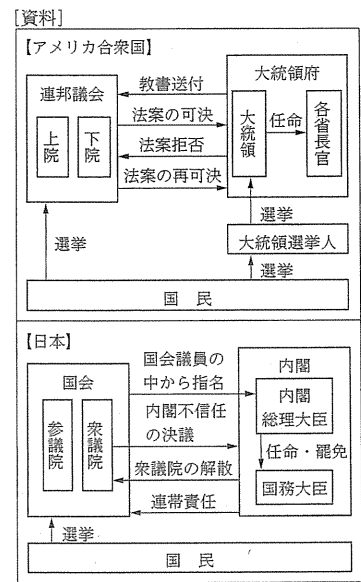
- ア パスポートの検査が必要なくなり、外国人観光客が増加したため。
- イ 賃金が安く豊富な労働力を求めて、工場を移転する外国企業が増加したため。
- ウ 人口の増加による食料不足への対応として、農業労働者が増加したため。
- エ 白人以外の移民を制限する政策が廃止され、他国からの移民が増加したため。

- (5) ウルルを聖地とする、オーストラリアの下線部 E を何というか。その名称をカタカナ 5 字で書け。
- (6) 資料 IV は、オーストラリアのメルボルンにあるヨーロッパ風の駅舎の写真である。オーストラリアの各地に、資料 IV のような建物や、キリスト教の教会がみられる都市があるのはなぜか。下線部 F とオーストラリアの、18 世紀後半から 20 世紀前半までの関係を明らかにしながら、簡潔に書け。
- (7) オーストラリアと太平洋周辺の国や地域との間で進められてきた下線部 G の枠組みを何というか。次のア～エから 1 つ選び、その記号を書け。
- ア APEC イ EU ウ OPEC エ ASEAN



4 次郎さんは、2026年に建国 250 周年をむかえるアメリカ合衆国に興味をもち、アメリカ合衆国の大統領について調べた。各問いに答えよ。

(1) 資料は、アメリカ合衆国と日本の政治制度をそれぞれ模式的に示したものである。両国に共通することとして述べた次の文 X、Y について、その正誤の組み合わせとして適切なものを、後のア～エから 1 つ選び、その記号を書け。



- X 行政機関に議会の解散権が認められている。
- Y 立法機関が二院制を採用している。
- ア X・正 Y・正 イ X・正 Y・誤
- ウ X・誤 Y・正 エ X・誤 Y・誤

(2) 次の [ ] 内は、次郎さんが、南北戦争に関してまとめたメモの一部である。( Z ) に当てはまる言葉を書け。

19 世紀半ばに、奴隷解放を訴えて当選した大統領は、南北戦争中に奴隷解放宣言を発表した。激戦地だったゲティスバーグでの演説で、人々に対し、「( Z ) の、( Z ) による、( Z ) のための政治」を訴えた。

- (3) ウィルソン大統領が発表した、十四か条の平和原則に含まれ、第一次世界大戦後のパリ講和会議で提唱された、すべての民族は他国の支配を受けずに自らの政治を行うべきであるという原則は何とよばれるか。その名称を書け。
- (4) 世界恐慌に対応するため、アメリカ合衆国の大統領が行った経済政策について述べた文として最も適切なものを、次のア～エから 1 つ選び、その記号を書け。
- ア 重工業中心の工業化と、農業の集団化を強行し、計画経済の体制を固めた。
  - イ 幅広い経済関係の強化を目的として、経済連携協定を世界中の国々と結んだ。
  - ウ 石油やゴムなどの資源を獲得するために、東南アジアへの進出を開始した。
  - エ 積極的に公共事業をおこして失業者を助け、労働組合を保護した。

5 健太さんは、「現代の日本における民主政治と政治参加」というテーマで、公民的分野で学習したことをまとめた。次の□内は健太さんがまとめたメモである。各問いに答えよ。

- 民主政治には、国民がA重要な決定に直接参加して意思を表明するしくみと、国民がB選挙で選んだ代表者が集まってC議会をつくり、物事を話し合って決めるしくみがある。
- 日本では、D様々な政治参加の方法があるが、中でも選挙は、国民が自らの意見を表現し、国や地方公共団体の行政、政党や個々の政治家に対する評価を行う極めて重要な機会である。
- 選挙権をもっているが、実際にE投票するためには、市区町村の選挙管理委員会が管理する名簿に登録されていなければならない。この名簿のことを選挙人名簿といい、その名簿に登録されているすべての人の数のことを、選挙人名簿登録者数という。
- 近年では、選挙権をもつ有権者が投票に行かない棄権が多くなり、人々のF政治に対する無関心が問題になっている。

(1) 日本の地方自治では、下線部Aを取り入れた直接請求権が認められている。直接請求権のうち、必要な署名数が有権者の50分の1以上で、請求先が首長であるものを、次のア～エから1つ選び、その記号を書け。

ア 条例の制定・改廃の請求    イ 監査請求    ウ 議会の解散請求    エ 解職請求

(2) 下線部Bに関して、選挙区、選挙運動、投票といった選挙の方法を定めた法律を何というか。その名称を書け。

(3) 健太さんは、下線部Cのうち、日本の国の政治の場である国会について調べた。

① 資料Iは、直近2回の参議院議員通常選挙の実施年月を示したものである。(X)に当てはまる数字を書け。

[資料I]	
選挙回次	実施年月
第26回	( X )年7月
第27回	2025年7月

(参議院Webサイトより作成)

② 衆議院議員総選挙は、小選挙区制と比例代表制を組み合わせた小選挙区比例代表並立制で行われている。小選挙区制について述べた文として最も適切なものを、次のア～エから1つ選び、その記号を書け。

- ア 一つの選挙区から二人以上を得票の多い順に選ぶ。
- イ いずれかの政党が単独で議会の過半数の議席を獲得しやすい。
- ウ 落選者に投じられた票が少なくなる傾向がある。
- エ 各政党の得票率に応じて議席を配分する。

(4) 下線部Dの1つに、被選挙権の行使がある。次の□内は、健太さんが、ある人物の政治に関する活動についてまとめたものの一部である。この人物の職業名として最も適切なものを、後のア～エから1つ選び、その記号を書け。

26歳の時に初めて選挙に立候補し、当選した。28歳の時に、よりよい社会をつくるために提出した法律案が、賛成多数で可決された。30歳の時に、任期満了にともなう選挙で再び立候補し、当選した。2期目に入った現在も、政治の場で活動している。

ア 衆議院議員    イ 参議院議員    ウ 都道府県議会議員    エ 都道府県知事

(5) 下線部Eに関して、資料IIは、国政選挙が始まった当初と現在の投票用紙を模式的に示したものである。国政選挙が始まった当初の投票用紙と比べて、現在の投票用紙に反映されている、選挙の4原則の1つとして最も適切なものを、次のア～エから1つ選び、その記号を書け。

- ア 普通選挙    イ 平等選挙
- ウ 秘密選挙    エ 直接選挙

【国政選挙が始まった当初】		【現在】	
印		候補者氏名	第○回 衆議院小選挙区 議員選挙投票 印
選挙人	被選人		

(6) 健太さんは、下線部Fについて調べた中で、有権者を対象に行った調査の一部である資料IIIを見つけた。資料IIIは、2024年に行われた第50回衆議院議員総選挙における年代別の政治関心度と投票参加率を示したものである。資料IIIから読み取れることについて述べた文として最も適切なものを、次のア～エから1つ選び、その記号を書け。

- ア 関心があった人の割合が半数以上を占める年代は、いずれも投票参加率が6割を超えている。
- イ 年代が上がるほど、関心がなかった人の割合は順に低くなり、投票参加率は順に高くなる。
- ウ わからないと回答した人の割合が他の年代に比べ最も高い年代は、投票参加率が最も低い。
- エ 関心がなかった人の割合が2割に満たない年代は、いずれも投票参加率が7割を超えている。

年代	政治関心度 (%)			投票参加率 (%)
	あった	なかった	わからない	
18-29歳	58.3	40.3	1.4	52.5
30歳代	67.5	32.5	0.0	69.0
40歳代	84.4	15.1	0.4	73.8
50歳代	81.6	16.9	1.6	75.0
60歳代	82.6	17.1	0.3	79.2

(注) 小数第2位を四捨五入したため、割合の合計が100.0%になっていない。  
投票参加率は、この調査で「投票に行った」と回答した割合で、全国の投票率とは異なる。  
(明い選挙推進協会Webサイトより作成)

(7) 資料IVは、2025年12月現在の衆議院議員総選挙における奈良県の3つの選挙区と選挙人名簿登録者数を示したものである。次の□内は、健太さんが、資料IVを参考にして、奈良県の選挙区に関してまとめたメモである。(Y)に当てはまる言葉を、「価値」の語を用いて簡潔に書け。

一人の議員が当選するために多くの得票が必要な選挙区と、少ない得票でも当選できる選挙区があると、それぞれの有権者がもつ(Y)ことになる。そのため、全国を選挙区に分けて選挙を行うときは、それぞれの選挙区の議員一人あたりの人口が、できるだけ平等に保たれていることが必要である。このような考えのもと、奈良県では、資料IVのように、選挙区が区割りされている。奈良県の選挙人名簿登録者数は、最多の選挙区の人数が、最少の選挙区の人数の約1.14倍である。

[資料IV]	
第1選挙区	388,043人
第2選挙区	374,378人
第3選挙区	339,635人

(奈良県Webサイトより作成)