

令和8年度

奈良県立青翔中学校入学者選抜検査問題

適性検査3

注 意

- 1 指示があるまで開いてはいけません。
- 2 解答用紙は1枚です。受験番号を忘れないように書きなさい。
- 3 解答用紙の※印のところには、何も書いてはいけません。
- 4 答えは必ず解答用紙に書きなさい。

1 次の文章および資料を読み、後の各問いに答えなさい。

近年、観光客の数が伸び悩んでいるA市では、観光客を増やすために、大型遊園地を建設する計画を立てています。また、隣のB市では、観光客の増加により、さまざまな問題が起きています。次の資料ア～エは、A市およびB市に関する資料です。

【資料】

施設・店舗の種類	数	施設・店舗の種類	数
スーパーマーケット	4	ファミリーレストラン	3
ショッピングモール	1	観光施設・観光名所	1
映画館	1	総合病院	1
市民グラウンド	1	市民ホール	1


資料ア A市にある主な施設・店舗数

私たち「A市の魅力」アンケート
集計結果

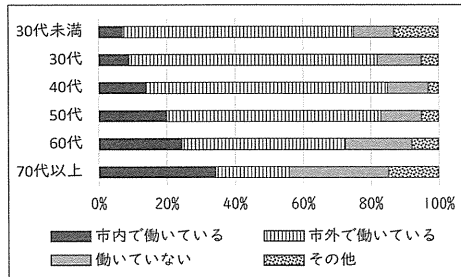
第1位
山や川などの豊かな自然環境

第2位
混雑や渋滞がない、ゆったりした生活環境

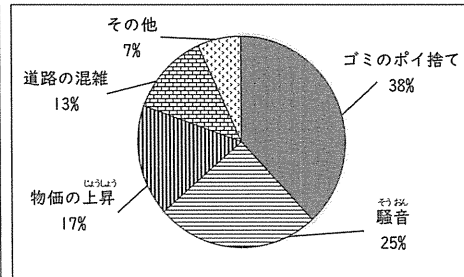
第3位
地域の人々のつながりにあたたかさを感じる



資料イ A市民に聞いたアンケートの集計結果



資料ウ A市民の働くことに関する状況調査の年代別の割合



資料エ B市の観光客増加による問題に関するアンケートの集計結果

もし、あなたがA市民なら、あなたはA市が大型遊園地を建設することに賛成ですか、それとも反対ですか。解答らんのいずれかあてはまる意見を○で囲みなさい。また、そのように考えた理由を、次の【条件】1～4にしたがって、2つ答えなさい。

【条件】

1 理由は、次の 内の文の空らんにあてはまるように答えること。

資料(①)から(②)がわかるので、(③)から。

2 ①には、考えた根拠となる資料をア～エから1つ選び、記号で答えること。

3 ②・③には、賛成もしくは反対と考えた理由を、①で選んだ資料から読み取った内容をもとに答えること。

4 同じ資料を2回使わないこと。