

令和8年度

奈良県立中学校入学者選抜検査問題

## 適性検査Ⅰ

注 意

- 1 指示があるまで開いてはいけません。
- 2 解答用紙は2枚あります。それぞれに、受験番号を忘れないように書きなさい。
- 3 解答用紙の※のところには、何も書いてはいけません。
- 4 答えは必ず解答用紙に書きなさい。

1 次の文章を読んで、後の問いに答えなさい。

言語とはコミュニケーションのa道具である、と言われます。だからこそ、上手に他人とコミュニケーションできるということは、上手に言語化できることだ、と思いが込んでいないでしょうか。ちょうど、パソコンを使いこなしたり、楽器を上手に弾いたりするように、私たちは言語を上手に使いこなすことで、人とのコミュニケーションがうまくいくはずだ、と一般に考えられていると思います。

私たちが会話をうまくできるのは、話し手が言語化の達人だからではなく、お互いが言葉をおして新しい考えを獲得し、新しい世界に出会う楽しさや喜びを共有するときです。

海外旅行で、たまたましい英会話で①「ゴカイ」したり、苦勞してコミュニケーションした思いが残るなら、それは旅行の大切な思い出であり、失敗した会話だと考える人はいいはず。日本語でも同じです。よどみない講演を聞いたとき、わかった気持ちになりますが、思い出そうとしても、話が上手だったなあという記憶が先に出てきて、何が心に響いたのか、言えないことがあります。それは情報伝達やコミュニケーションが成功したと言えるでしょうか。

人はみな誰かを必要とします。他の人とまったく交流しないで生きることは、きっと誰にもできないではないでしょうか。②「独り」になりたいたいという感情は、ふだん誰かと一緒にいるので、たまには独りになって好きなことをして過ごしたい、というささやかな望みを言い換えたに過ぎません。人に会うのが嫌な人も、誰かと会うことが本当に楽しみや喜びをもたらすなら、交流を完全に拒否しないのではないのでしょうか。

最近、オランダのスーパーが「おしゃべり歓迎」で話題になりました。そのスーパーでは、緑の買い物カゴを持つと「話しかけOK」というサインになります。b老若男女を問わず、緑のカゴをもつ人が増えました。買い物をすると同時に、その日の小さな喜びを持ち帰ることのできる場が誕生したわけです。

日本では、レジでゆっくり支払いすると、後ろの人に迷惑だと思われる③「フウチョウ」があります。ところが、日本よりも20年以上早くセルフレジが誕生したオランダに、数年前、会話を楽しむc「世間話専用レジ」ができました。こういった試みは、買い物だけが唯一の社会との交わりの機会である老人や、独り暮らしの人々のささえになり、大きな話題と④「シジ」を集めています。

人は誰でも交流を必要とします。でも、その相手が親友である必要はありません。

最近、アメリカやカナダの心理学者が複数の調査・研究から、うわべだけの世間話をするだけで幸福感が高まる、という結論を導き出しました。幸福感は、心から仲がいいと思える親友や恋人、家族のみがもたらすことができるとは、なく、dまったく知らない人との何気ない会話が心を明るく温かくしてくれる、ということです。

こういった世間話にも⑤「ミ」たないような短い会話は、社会の潤滑油になるだけではありません。個人人のその時の感情を考えてみても、その社会で多少なりとも受け入れられている、という安心感をもたらしてくれたと言えます。私の住む街でよく行くケーキ屋さんでは、他にお客さんがいなければ、ほんの少し無駄話をします。しかし、それはまったくの無駄ではなく、話すことでお互いがこころで生きることを確かめあう、証になっただけ、と言っただけ、と思います。

「人は社会的な生き物である」とか「人は言語的な生き物である」とよく言いますが、こういったことを考えると、その本当の意味は「人は生まれながらにして互いを求める」と理解できるのではないのでしょうか。この場合、互いを必要とするというのは、互いに⑥「認知」すること、その認知を言葉として表すことだと思えます。言語とはコミュニケーションの道具だと言いますが、情報伝達とともに、互いの存在を認める機能ももつ根本に存在しているように思えます。

(小野純一『僕たちは言葉について何も知らない』による)

(注) 潤滑油(ニ)とは、物事をスムーズに運ばせるもの。もとは機械の部品をスムーズに動かすための油。

(一) [ ] ①～⑥のカタカナを漢字になおし、漢字の読みをひらがなで書きなさい。

(二) 線aの漢字の部首を使って、あなたはそれぞれの漢字に用いられている部首名でしりとりをしてみようと考えました。このとき、次の①～⑤に当てはまる漢字をア～キから一つずつ選び、記号で答えなさい。なお、部首名に「ん」がある場合、「ん」は省略してしりとりするものとします。

道 ↓ ① ↓ ② ↓ ③ ↓ 祝

ア 登 イ 利 ウ 験 工 油 才 物 力 熱 キ 宅

(三) 段落★で挙げられている二つの具体例についての説明として、最も適切なものを、次のア～工から一つ選び、記号で答えなさい。

ア 二つ目は、言語を上手に使いこなせていたが心に残らなかった例で、二つ目は、言語を上手に使いこなせていなかったが心に残った例である。

イ 二つ目は、言語を上手に使いこなせていたため心に残らなかった例で、二つ目は、言語を上手に使いこなせていなかったが心に残った例である。

ウ 二つ目は、言語を上手に使いこなせていたが心に残らなかった例で、二つ目は、言語を上手に使いこなせていなかったが心に残った例である。

エ 二つ目は、言語を上手に使いこなせていたため心に残った例である。

(四) 線bとありますが、どういふことですか。最も適切なものを、次のア～工から一つ選び、記号で答えなさい。

ア 老人や独り暮らしの人は特に、買い物中に話しかけてほしい人が多いということ。

イ 世代や性別に関係なく、買い物中に話しかけてほしいと思う人がいたということ。

ウ 老人と女性は特に、買い物中にあまり話しかけてほしくない人が多いということ。

エ 特定の世代や性別によっては、買い物中に話しかけてほしい人もいるということ。

(五) 線cの例を挙げることで、本文の中で筆者は何を伝えようとしていると考えられますか。最も適切なものを、次のア～工から一つ選び、記号で答えなさい。

ア レジでゆっくり支払いをすると迷惑になるため、迷惑にならない場所を新しく作る必要があるということ。

イ 日本より早くセルフレジが誕生したため、新たなレジを作ることによって大きな話題を集められるということ。

ウ 社会の中で自分たちが生きていることを確認し合うことができ、幸せな気持ちになれるということ。

エ 親友や恋人、家族などと世間話をするを通して、その日の幸福感を生み出すことができるということ。

(六) 本文について、次の四人が話し合っています。このうち、本文を正しく読み取っていないと考えられる人を一人選び、答えなさい。

Aさん おもしろい文章だったね。「うわべだけの世間話」や「無駄話」ではなく、中身のあるコミュニケーションをすることで、幸せな気持ちになれることが分かったから、私も話の中身をしっかりと練習しようと思ったよ。

Bさん オランダのスーパーの例からも分かるように、知らない人も話すことは社会的に大切なんだね。一方、よく日本では「知らない人とは話さない」と防犯の観点で教えられるけど、どちらがいいんだろう。

Cさん うまいコミュニケーションって何なのかいとも考えていたけど、言語をうまく使いこなすといった「技術」が問題ではなく、人と人との関係の中で何を生み出すかが大切だということが分かったよ。

Dさん 私は特に三段落目までの内容が印象に残ったよ。授業で発表する時にぎん張してうまく話せなかった時があったけど、友達が「一生懸命さが伝わったよ」と言ってくれたこととつながった気がしたよ。

(七) 線dについて、次の条件1～2にしたがって書きなさい。

条件1 線dの具体例を、あなたの身の回りから考えて挙げなさい。またその具体例が、なぜ線dの具体例といえるのかを分かりやすく説明しなさい。


条件2 段落は必要ありません。題や名前は書かず、縦書き、百字以上百三十文字以内で書くこと。

2 まなぶさんは、社会科の授業で大阪について興味をもったことを調べてノートにまとめました。各問いに答えなさい。

3世紀の後半ごろに、近畿から瀬戸内海沿岸の地域でつくられ始めた古墳は、その地域を支配していた豪族の墓です。古墳の出土品から、当時の暮らしや社会の様子を知ることができます。2019年には、**A**百舌鳥・古市古墳群が世界遺産登録されました。

15世紀の後半から、全国各地で戦国大名とよばれる武将たちが戦いをくり広げる時代が続きました。有力な武将であった**B**豊臣秀吉は、織田信長の死後、明智光秀をたおし、大阪城を築いて政治の拠点とし、支配力を強め、全国を統一しました。

17世紀から始まった江戸時代では、江戸や**C**大阪などの大都市で町人たちが中心となって、新しい文化を生み出していきました。都市で栄えたこれらの文化は、人々の交流によって広まり、各地で楽しめるようになっていきました。



資料1

資料2

資料3

(1) 資料1は、下線部Aを代表する日本最大の古墳です。また、資料2、資料3はそれぞれ、日本各地の古墳からの出土品で、古墳のまわりに並んでいたものです。資料1の古墳と、資料2、資料3の出土品の名前の組み合わせとして正しいものを、次のア～エから1つ選び、その記号を書きなさい。

- |   |           |         |   |           |          |
|---|-----------|---------|---|-----------|----------|
| ア | 古墳: 稲荷山古墳 | 出土品: 土偶 | イ | 古墳: 稲荷山古墳 | 出土品: はにわ |
| ウ | 古墳: 大仙古墳  | 出土品: 土偶 | エ | 古墳: 大仙古墳  | 出土品: はにわ |

(2) まなぶさんは、安土桃山時代から江戸時代のあいだに出されたさまざまな命令について調べました。このうち、下線部Bの人物が実施した政策を示した内容を、次のア～エから1つ選び、その記号を書きなさい。

- |   |  |
|---|--|
| ア | 百姓が刀・やり・鉄砲、そのほかの武器を持つことを禁止した。          |
| イ | 安土城の城下町では、だれでも商売ができるようにし、市場の税や関所をなくした。 |
| ウ | 大名は、毎年4月に参勤交代をすることを定めた。                |
| エ | 五人組というしくみをつくり、共同で責任を負わせた。              |

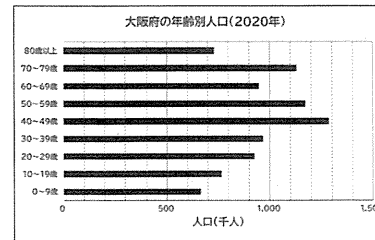
(3) まなぶさんは、下線部Cと関係のある歴史上の人物について調べ、カードにまとめました。(X)、(Y)にあてはまる人物の組み合わせとして正しいものを、下のア～エから1つ選び、その記号を書きなさい。

(X)について  
もと幕府の役人であったが、19世紀のなかごろ、生活に苦しむ人々を救うために大阪で反乱を起こした。

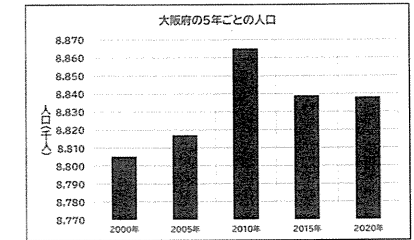
(Y)について  
大阪に生まれ、教育者としてかつやくし、『学問のすゝめ』という著作で、人は、生まれながらにして平等であることなどを主張した。

- |   |         |         |   |         |        |
|---|---------|---------|---|---------|--------|
| ア | X 大塩平八郎 | Y 大久保利通 | イ | X 大塩平八郎 | Y 福沢諭吉 |
| ウ | X 本居宣長  | Y 大久保利通 | エ | X 本居宣長  | Y 福沢諭吉 |

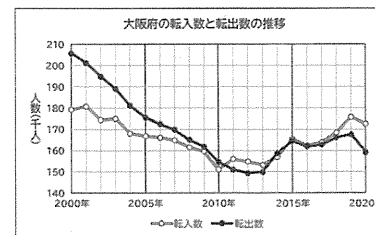
(4) まなぶさんは、大阪府の人口について調べるために、資料4、資料5、資料6、資料7のグラフを作成しました。資料4、資料5、資料6、資料7から読み取れることとして正しいものを、次のア～カからすべて選び、その記号を書きなさい。



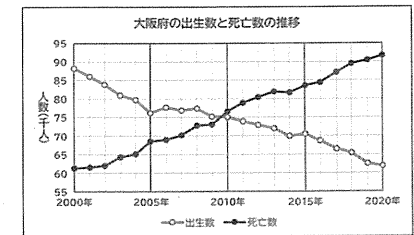
資料4



資料5



資料6



資料7

(RESAS 地域経済分析システムより作成)

(注) 転入数=別の地域からその地域へ住所を変更した人数のこと。

転出数=その地域から別の地域へ住所を変更した人数のこと。

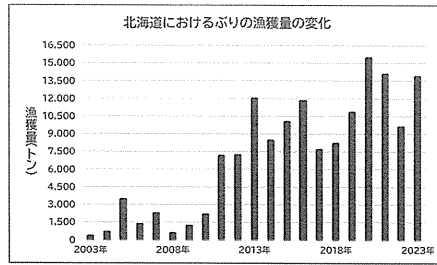
- |   |  |
|---|--|
| ア | 2000年から2020年まで、毎年出生数は減り続けている。                |
| イ | 2010年までは、転入数よりも転出数が多く、以降は転入数が増え続けている。        |
| ウ | 2010年からは死亡数が出生数を上回り、2020年の人口は2010年と比べて減っている。 |
| エ | 2020年の60歳以上の人口は、大阪府全体の人口の20%を上回っている。         |
| オ | 2020年には、転入数と出生数の合計が、転出数と死亡数の合計を上回っている。       |
| カ | 2020年の年齢別人口では、50～59歳が最も多い。                   |

3 なおごさんは、修学旅行で訪れる予定の長崎県について調べるなかで、長崎県では、「黄金ぶり」や「西海光」と呼ばれるブランドのぶりが有名なことを知り、ぶりに関わる漁業について調べ、次の資料8と資料9を作成しました。これらの資料をもとになおごさんが作成したレポートを読んで、各問いに答えなさい。

都道府県別ぶり類漁獲量の変化				
単位(トン)				
2003年		2023年		
1位	( A )	13,334	北海道	13,659
2位	長崎県	10,368	長崎県	12,991
3位	石川県	6,151	石川県	6,959
4位	千葉県	4,062	( A )	6,059
5位	京都府	2,342	岩手県	5,646
⋮				
24位	北海道	317		

資料8

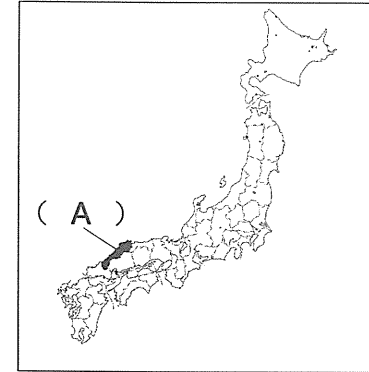
(農林水産省 海面漁業生産統計調査より作成)



資料9

(北海道水産現勢累年より作成)

(2) 次の地図は、資料8および、なおごさんのレポートの空らん( A )に共通してあてはまる都道府県の位置を示したものである。この都道府県名を書きなさい。



(3) なおごさんは、レポート中の下線部について興味をもち、日本ではどのような対策が行われているのか調べるなかで、国が定めた「地球温暖化対策推進法」という法律があることを知りました。法律を決めるために必要な手続きとして誤っているものを、次のア～工から1つ選び、その記号を書きなさい。

- ア 内閣または、国会議員が法律案を作成し、国会に提出する。
- イ 衆議院と参議院で法律案を審議する。
- ウ 国会で審議した法律案は、国会議員の多数決によって可決する。
- 工 可決した法律案は、内閣総理大臣によって公布される。

(4) なおごさんは、レポート中の下線部以外にも、さまざまな地球規模の課題に取り組む国際的な組織や、取り組みがあることを知り、さらに調べました。このうち、ユニセフが行っている活動を、次のア～カからすべて選び、その記号を書きなさい。

- ア オリンピックを主催し、スポーツを通して子どもの健康を守ることに取り組んでいる。
- イ 子どもが平和で健康に過ごせるように、保健、衛生、栄養などの支援に取り組んでいる。
- ウ 世界各地の貴重な自然や遺跡を世界遺産に登録して、保護することに取り組んでいる。
- 工 地球温暖化の原因である、温室効果ガスの排出量の削減目標を定めることに取り組んでいる。
- オ 紛争地域などに軍隊や自衛隊を派遣し、世界平和の維持に取り組んでいる。
- カ 紛争や内戦に巻き込まれている子どものために、食料や薬品の支援に取り組んでいる。

なおごさんのレポート

私は、最初は長崎県におけるぶり類(ひらまさ、かんぱちなどを含む)の漁獲量について調べました。都道府県別のぶり類の漁獲量を調べると、暖流の( X )が流れている日本海側の長崎県や石川県、( A )などで漁獲量が多いことがわかりました。さらに、近年では特に北海道での漁獲量が増えているということもわかりました。

北海道の、2003年と2023年のぶり類の漁獲量を比べると、およそ( Y )倍以上に増えています。北海道でぶり類がよくとれるようになった理由については、まだ研究段階ですが、地球温暖化の影響で海水温が上昇していることや、海流に変化があったことなどが考えられているようです。

(1) なおごさんのレポートの空らん( X )、( Y )にあてはまる語句と数字の組み合わせとして正しいものを、次のア～工から1つ選び、その記号を書きなさい。

- ア X 黒潮(日本海流)      Y 40      イ X 黒潮(日本海流)      Y 50
- ウ X 対馬海流      Y 40      エ X 対馬海流      Y 50